

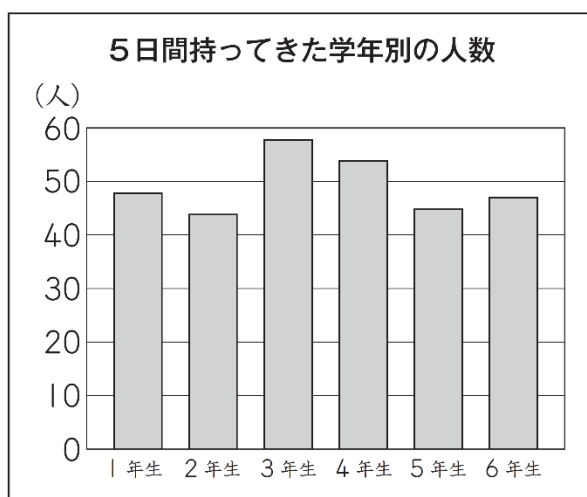
## ㊫-1 5年 帯グラフと円グラフ2

年 組 番

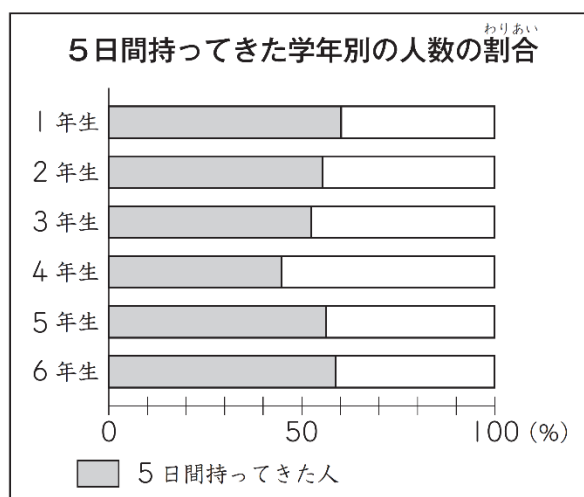
名前

全学年の児童について、ハンカチを持ってきた人数を5日間調べ、その結果を下の4つのグラフに表しました。

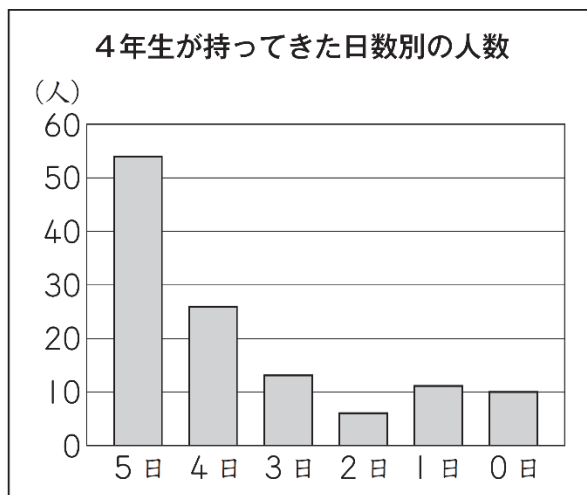
1



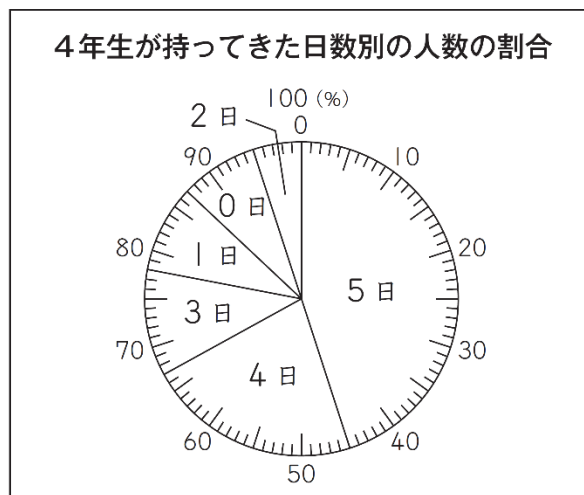
2



3



4



左の 4 つのグラフを見て、あるグラフから、次のことがわかりました。

### わかったこと

ハンカチを 5 日間持ってきた人数が、学年全体の人数の半分より少ない学年は、4 年生だけである。

このことがわかるグラフはどれですか。

左の **1** から **4** までの中から 1 つ選んで、その番号を書きましょう。

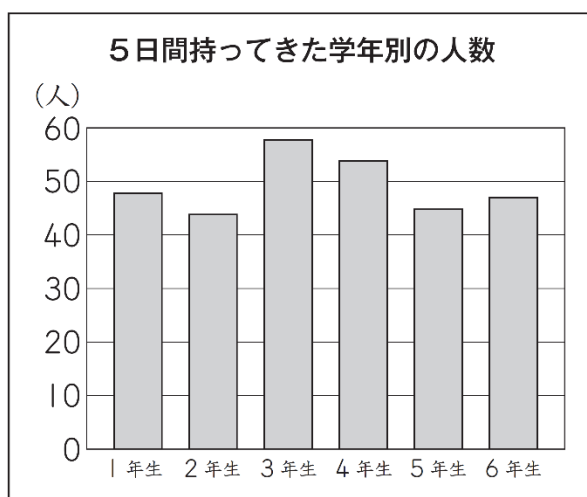
## ㊦-1 5年 帯グラフと円グラフ2

年 組 番

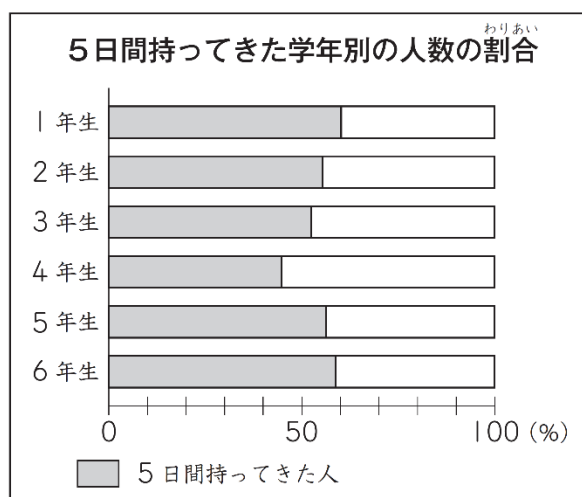
名前

全学年の児童について、ハンカチを持ってきた人数を5日間調べ、その結果を下の4つのグラフに表しました。

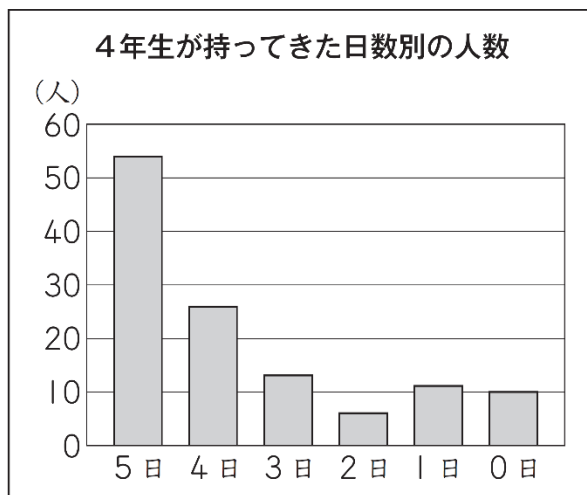
1



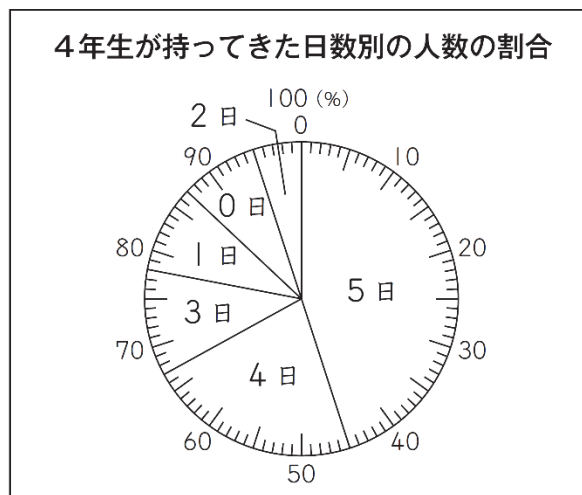
2



3



4



左の4つのグラフを見て、あるグラフから、次のことがわかりました。

### わかったこと

ハンカチを5日間持ってきた人数が、学年全体の人数の半分より少ない学年は、4年生だけである。

このことがわかるグラフはどれですか。

左の **1** から **4** までの中から1つ選んで、その番号を書きましょう。

2